

Geografía
Nivel superior y nivel medio
Prueba 2 – cuadernillo de consulta

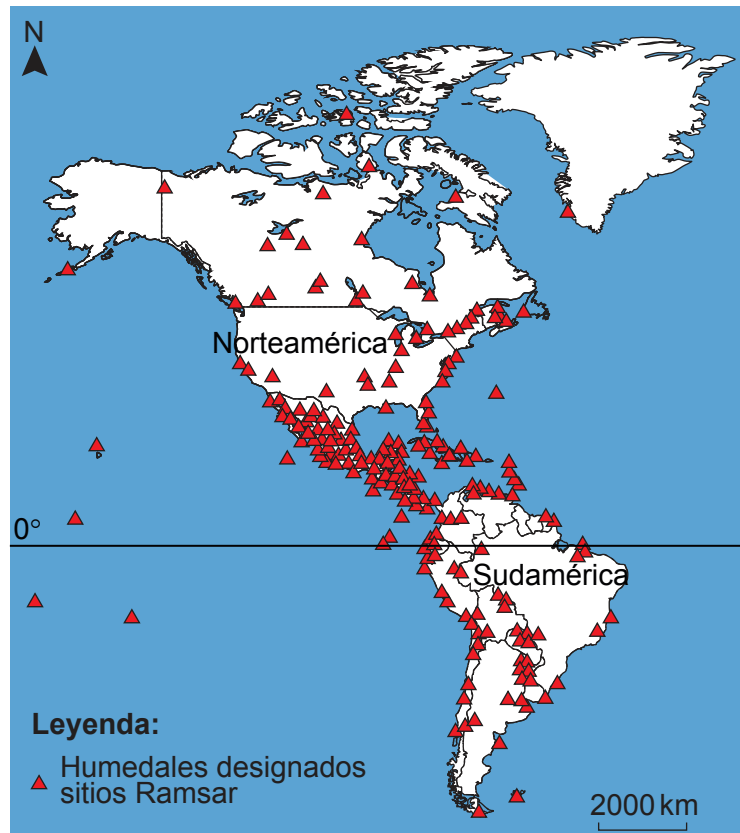
Jueves 17 de noviembre de 2016 (mañana)

Instrucciones para los alumnos

- No abra este cuadernillo de consulta hasta que se lo autoricen.
- Utilice el cuadernillo para las preguntas apropiadas de la prueba 2.

Opción A — Agua dulce: cuestiones y conflictos

2. El mapa muestra la distribución de los humedales que han sido designados sitios Ramsar en las Américas. El Convenio de Ramsar es el convenio sobre humedales de referencia internacional.



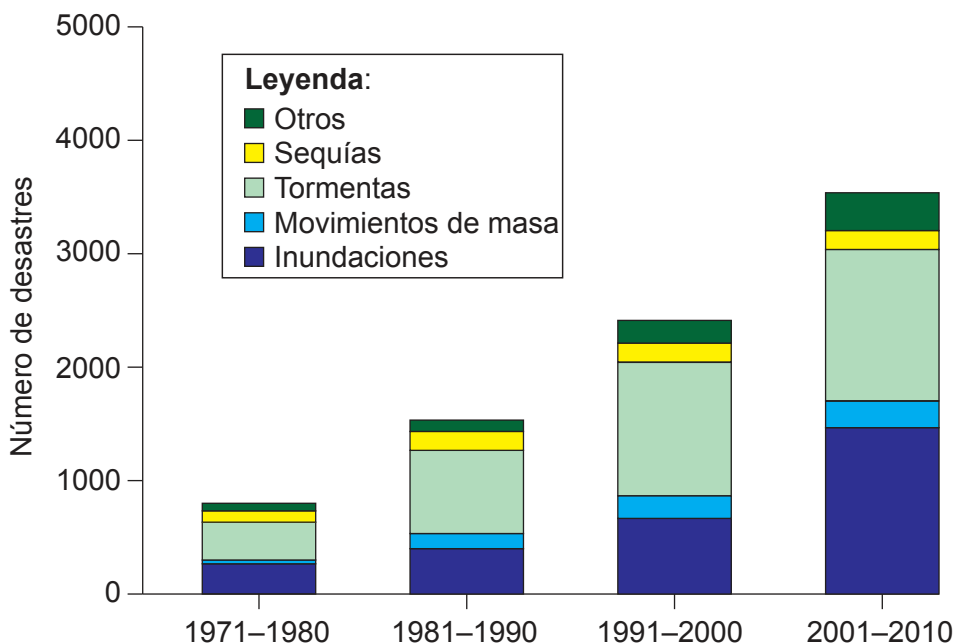
[Fuente: adaptado de www.gislounge.com]

Opción D — Amenazas y desastres: evaluación de riesgo y respuestas humanas

8. El diagrama A muestra el número de desastres que se han declarado en cada década por tipo de amenaza en el mundo. El diagrama B muestra las pérdidas económicas por tipo de amenaza en el mundo.

Diagrama A

Número de desastres que se han declarado en cada década por tipo de amenaza en el mundo (1971–2010)

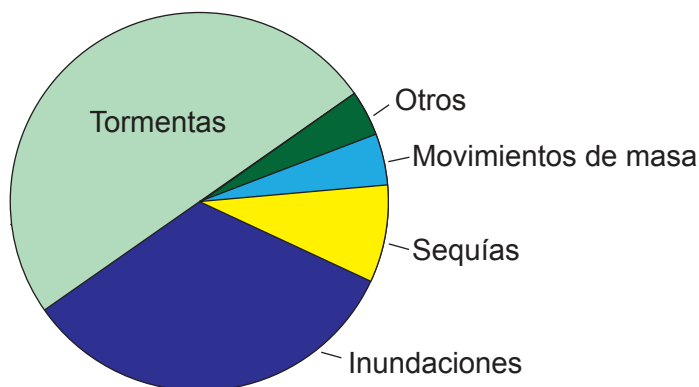


[Fuente: de Atlas of Mortality and Economic Losses de Weather Climate and Water Extremes (http://library.wmo.int/pmb_ged/wmo_1123_en.pdf), ©2014 World Meteorological Organization.]

Diagrama B

Pérdidas económicas por tipo de amenaza en el mundo (1971–2010)

Total 2 mil millones de dólares estadounidenses



[Fuente: de Atlas of Mortality and Economic Losses de Weather Climate and Water Extremes (http://library.wmo.int/pmb_ged/wmo_1123_en.pdf), ©2014 World Meteorological Organization.]

Véase al dorso

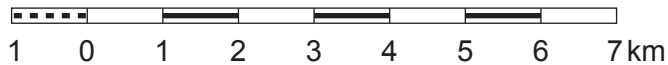
Opción E — Ocio, deporte y turismo

- 10. El mapa muestra la zona en torno al valle del río Tarn y la ciudad de Sainte-Enimie, en el sur de Francia. La escala del mapa es de 1:100 000 y el intervalo entre las curvas de nivel es de 40 metros. La fotografía A muestra la ciudad de Sainte-Enimie.



SCAN 100®, © IGN – 2016. No copy. Authorization No. 60.16021

Escala 1:100 000



Leyenda:

Límite de parque nacional _____		Centro juvenil, parque de vacaciones _____	
Límite de área circundante _____		Centro ecuestre, centro ecuestre con alojamientos _____	
Centro de visitantes de parque nacional _____		Carreteras secundarias: de 7 metros o más, de menos de 7 metros _____	
Sendero GR _____		Distancias kilométricas (distancia total entre núcleos urbanos importantes) _____	
Ruta local a pie: punto de inicio _____		Otras carreteras: con mantenimiento regular, sin mantenimiento _____	
Camino de herradura _____		Camino agrícola/pista forestal, sendero, camino carretero _____	
Ruta turística _____		Paso a nivel, túnel, puente _____	
Templo, iglesia, capilla, abadía _____		Canales: navegables, no navegables _____	
Castillo, castillo abierto al público, museo _____		Esclusa, estación, puerto, túnel, embalse, torre de agua _____	
Torre, fortificación, puente histórico _____		Lagos o estanques: permanentes, estacionales, pantano _____	
Arquitectura tradicional, edificio de interés _____		Casa o grupo de casas, pabellón _____	
Campanario, atalaya _____		Iglesia, capilla, calvario _____	
Dolmen, menhir _____		Monumentos: megalíticos, conmemorativos, cementerio _____	
Cueva habitada, dolina _____		Castillo, torre, ruinas _____	
Ruinas, restos _____		Fortificaciones: fuerte, batería _____	
Punto de interés, lugar de la Orden de los Caballeros de Malta _____		Aeródromos: con instalaciones, sin instalaciones _____	
Indicador de mirador, mirador _____		Población en miles de habitantes _____	
Manantial, cascada _____		Bosque, maleza _____	
Oficina de información turística, comisaría de policía _____		El intervalo entre las curvas de nivel es de 40 metros. Las flechas señalan la disminución de desnivel.	
Albergue / alojamiento vigilado, refugio no vigilado / refugio natural _____			
Establos, zona de acampada _____			

[Fuente: elaborado y editado por el Instituto Geográfico Nacional Francés en colaboración con el Parque Nacional de Cevennes]

Fotografía A



[Fuente: derechos de autor Organización del Bachillerato Internacional, 2016]